

**ŞUBAT 2020 TARİH BASKILI
İKTİSADA GİRİŞ II
DERS KİTABINA İLİŞKİN DÜZELTME CETVELİ**

1- Ünite 1, Sayfa 24, "1. paragrafdaki cümle" aşağıdaki şekilde güncellenmiştir.

... $(1.693.665.799 - 1.576.365.403) / 1.576.365.403 = 0,074$.

2- Ünite 2, Sayfa 49, "Denge Üretim Düzeyinin Belirlenmesi" başlıklı konunun ilk formülü aşağıdaki şekilde güncellenmiştir.

$$AE = C + I$$

3- Ünite 3, Sayfa 82, "2. paragrafdaki cümle" aşağıdaki şekilde güncellenmiştir.

Böylece toplam etki, net ihracatın artması olur. Artan net ihracat da toplam harcamaların ya da toplam talebin artması demektir.

4- Ünite 3, Kapak sayfası, sayfa 91, 96 "Öğrenme Çıktısı 3 (6)" aşağıdaki şekilde güncellenmiştir.

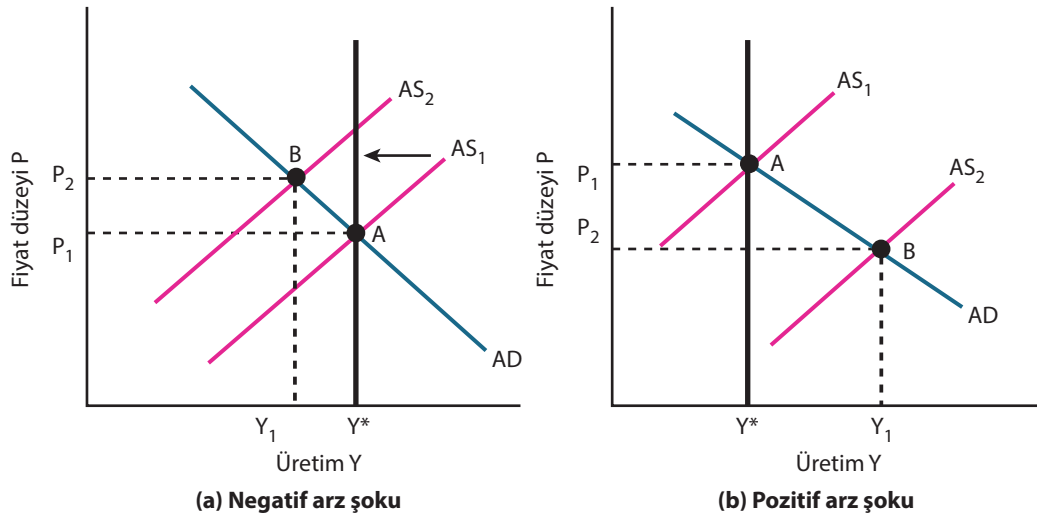
Toplam arz eğrisinin neden pozitif eğimli olduğunu açıklayabilme

5- Ünite 3, Sayfa 82, Döviz Kuru Etkisi başlıklı konunun içeriği aşağıdaki şekilde güncellenmiştir.

Aynı üç etki farklı bir şekilde de işler. Fiyatlardaki artış talep edilen mal ve hizmet miktarının azalmasına neden olur:

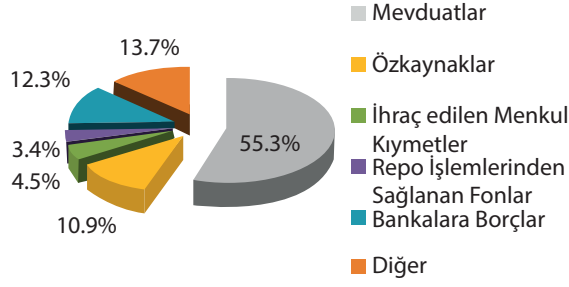
- Azalan refah nedeniyle tüketim harcamaları da azalır.
- Artan faiz oranları yatırım harcamalarının azalmasına etki eder.
- Döviz kurundaki düşüş (yerli paranın değer kazanması) net ihracatı azaltır.

6- Ünite 3, Sayfa 93, Şekil 3.15'in içeriği aşağıdaki şekilde güncellenmiştir.



Şekil 3.15 Arz Şoklarının Etkileri

7- Ünite 4, Sayfa 110, "Bankacılık Sektörü 2019-3. Çeyrek Bilançosu", "Pasifler şekli" aşağıdaki şekilde güncellenmiştir.



Kaynak: BDDK

8- Ünite 4, Sayfa 111, "İkinci Bilanço" aşağıdaki şekilde güncellenmiştir.

A Bank Bilançosu			
Varlıklar		Yükümlülükler	
Rezervler	100 TL	Mevduatlar	1000 TL
Krediler	900 TL		

9- Ünite 4, Sayfa 115, "Zorunlu Karşılıklar" başlıklı konunun üçüncü paragrafın içeriği aşağıdaki şekilde güncellenmiştir.

Ne kadar zorunlu rezerv tutulması gerektiğini zorunlu rezerv oranı gösterir. Merkez Bankasının zorunlu rezerv oranını artırması rezerv miktarını da artırır. O hâlde zorunlu rezerv oranı ile para çarpanı arasında ters yönlü bir ilişki olduğunu söyleyebiliriz. Zorunlu rezerv oranı artınca para çarpanı azalır. Bu, para arzının da azalması demektir. Zorunlu rezerv oranının azalmasıysa para çarpanının ve para arzının artmasına neden olur. Merkez Bankası bu oran üzerinden bankalara yatırılan her birim mevduatın krediye dönen kısmını etkilemiş olur.

10- Ünite 4, Sayfa 115, "Para Piyasası Dengesi ve Nominal Faiz Oranı" başlıklı konunun ikinci paragrafın içeriği aşağıdaki şekilde güncellenmiştir.

İlk olarak para talebine bakalım. Ekonomik birimlerin para talebi, servetlerinin ne kadarını likit olarak tutmak istediklerini gösterir. Parayı günlük ödeme işlemlerinde kullanılmak üzere nakit ya da vadesiz mevduat olarak tutulan bir varlık olarak sıklıkla kullanırız. Nakit ve vadesiz mevduatlar likiditesi yüksek varlıklardır. Bununla birlikte para bir değer biriktirme aracıdır. Tahvil, hisse senedi ya da gayrimenkul gibi likiditesi düşük finansal varlıklar da paradır.

11- Ünite 4, Sayfa 116, Şekil 4.3'ten önceki paragrafın içeriği aşağıdaki şekilde güncellenmiştir.

.... Gelirdeki azalma ya da fiyatların düşmesiysa para talebinin azalmasına ve bunu gösterecek şekilde para talebi eğrisinin sola kaymasına neden olur. Daha önce bahsettiğimiz gibi, teknolojik ve finansal yenilikler de para talebini etkiliyor. ATM sayısının artması bize yanımda fazla para bulundurmama kolaylığı ya da güvenliği sağlıyor. Biz de ihtiyacımız olduğunda para çekebileceğimizi bildiğimiz için tutmak istediğimiz para miktarı, yani para talebimiz azalıyor.

12- Ünite 4, Sayfa 128, "Neler Öğrendik Yanıt Anahtarı"; Soru 2 ve 8'in yanıtları aşağıdaki şekilde güncellenmiştir.

2. E Yanıtınız yanlış ise "Para Arzı ve Bankacılık Sistemi" konusunu yeniden gözden geçiriniz.

8. C Yanıtınız yanlış ise "Finansal Araçlar" konusunu yeniden gözden geçiriniz.

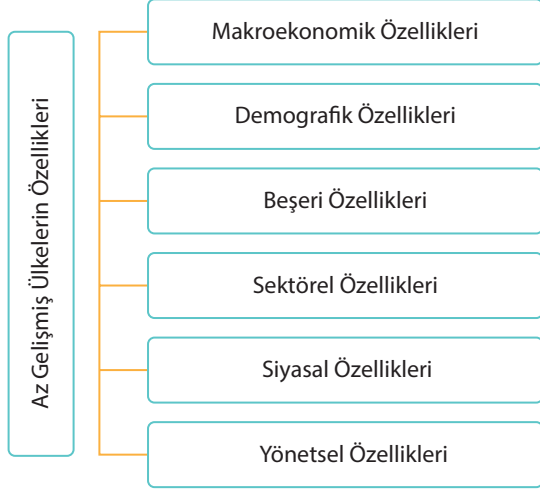
13- Ünite 5, Sayfa 161, "Neler Öğrendik"; Soru 8'in içeriği aşağıdaki şekilde güncellenmiştir.

8. 2019 yılı için potansiyel GSYH'nin 500 milyar TL ve gerçekleşen GSYH'nin 450 milyar TL olduğu bir ekonomide GSYH açığı yüzde kaçtır?

14- Ünite 5, Sayfa 162, "Neler Öğrendik Yanıt Anahtarı"; Soru 2, 6 ve 8'in yanıtları aşağıdaki şekilde güncellenmiştir.

- 2. A Yanıtınız yanlış ise "İşsizlik Nasıl Hesaplanır?" konusunu yeniden gözden geçiriniz.
- 6. B Yanıtınız yanlış ise "Enflasyonun Tanımı ve Ölçülmesi" konusunu yeniden gözden geçiriniz.
- 8. B Yanıtınız yanlış ise "İşsizlik Maliyeti" konusunu yeniden gözden geçiriniz.

15- Ünite 6, Sayfa 185, "Şekil 6.9", aşağıdaki şekilde güncellenmiştir.



16- Ünite 7, Sayfa 219, "Neler Öğrendik", Soru 3'ün cevap şıkları aşağıdaki şekilde güncellenmiştir.

- C. Bir ülkenin iki malda da mutlak üstünlüğe sahip olması durumunda, nispi olarak avantajlı olduğu malın üretiminde uzmanlaşması